

# Multiplizieren und dividieren

## 1 Löse die Aufgaben auf deinem Weg.

a)  $3 \cdot 14 =$  \_\_\_\_\_

b)  $6 \cdot 18 =$  \_\_\_\_\_

c)  $5 \cdot 26 =$  \_\_\_\_\_




## 2 Zerlege so, dass du leicht rechnen kannst.



a)  $3 \cdot 12 =$  \_\_\_\_\_

b)  $7 \cdot 24 =$  \_\_\_\_\_

c)  $3 \cdot 41 =$  \_\_\_\_\_

$6 \cdot 15 =$  \_\_\_\_\_

$8 \cdot 31 =$  \_\_\_\_\_

$6 \cdot 56 =$  \_\_\_\_\_

## 3 Löse die Aufgaben auf deinem Weg.


a)  $36 : 3 =$  \_\_\_\_\_

b)  $52 : 4 =$  \_\_\_\_\_

c)  $105 : 5 =$  \_\_\_\_\_




## 4 Zerlege so, dass du leicht rechnen kannst.



a)  $26 : 2 =$  \_\_\_\_\_

b)  $45 : 3 =$  \_\_\_\_\_

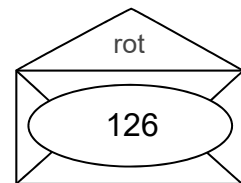
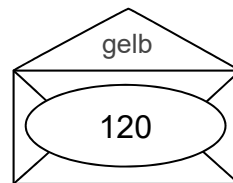
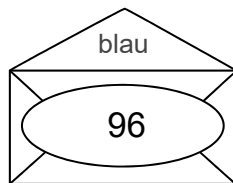
c)  $56 : 4 =$  \_\_\_\_\_

$39 : 3 =$  \_\_\_\_\_

$78 : 6 =$  \_\_\_\_\_

$75 : 5 =$  \_\_\_\_\_

## 5 Rechne und male an.



$3 \cdot 42$

$960 : 8$

$6 \cdot 16$

$480 : 5$

$8 \cdot 15$

$252 : 2$

$600 : 5$

$6 \cdot 21$

$2 \cdot 48$

$960 : 10$

$630 : 5$

$6 \cdot 20$

## 6 Beachte die Rechenregel. Unterstreiche, was du zuerst rechnest.

a)  $20 + 2 \cdot 4 =$  \_\_\_\_\_

b)  $10 + 28 : 4 =$  \_\_\_\_\_

c)  $50 - 7 \cdot 7 =$  \_\_\_\_\_

$30 + 4 \cdot 5 =$  \_\_\_\_\_

$15 + 42 : 6 =$  \_\_\_\_\_

$40 - 9 \cdot 4 =$  \_\_\_\_\_

$40 + 3 \cdot 6 =$  \_\_\_\_\_

$20 + 50 : 5 =$  \_\_\_\_\_

$30 - 3 \cdot 8 =$  \_\_\_\_\_